

Diagnoza na rozpoczęcie klasy 2

edukacja polonistyczna

Imię i nazwisko:

1. Napisz obok liter drukowanych małe lub wielkie litery pisane.

B	g	A	t	M
_____	_____	_____	_____	_____
_____	_____	_____	_____	_____
_____	_____	_____	_____	_____
d	N	R	h	f
_____	_____	_____	_____	_____
_____	_____	_____	_____	_____
_____	_____	_____	_____	_____

2. Przepisz fragment wiersza Hanny Ożogowskiej „Jesienny wiatr”.


Wiatr jesienią ma robotę, w nocy i za dnia.

Ciągle strąca liście złote i przed siebie gna.

3. Podpisz obrazki . Podkreśl w wyrazach samogłoski.



4. Narysuj pod rysunkiem tyle kótek, ile wyraz ma głosek.



5. Z rozsypanki sylabowej ułóż nazwy zwierząt. Podkreśl wyraz trzysylabowy.

mo ra mar ży tyl fa ko

6. Podziel wyrazy na sylaby według wzoru: czajnik

samolot - szyszka - karuzela - książka - kaloryfer

7. Przeczytaj tekst. Pokoloruj rysunek zgodnie z treścią. Odpowiedz na pytania.

W sobotę Monika wybrała się na spacer do parku. Włożyła czerwony płaszcz i zieloną czapkę. Dziewczynka zabrała ze sobą czarną torebkę, którą kupiła jej mama. W parku Monika zebrała kolorowe liście do swojej kolekcji. Były to liście dębu, klonu i kasztanowca.



- Gdzie wybrała się w sobotę Monika?

- Od kogo Monika dostała czarną torebkę?

Diagnoza na rozpoczęcie klasy 2

edukacja matematyczna

Imię i nazwisko:

1. Zapisz poprawnie cyfry.

4

8

6

9

2

5

3

7

2. Oblicz i wpisz wyniki.

$7+3=$

$18-6=$

$14+4=$

$17-5=$

$9-3=$

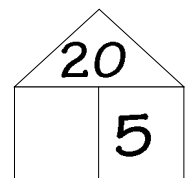
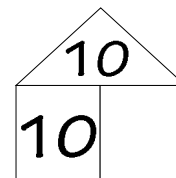
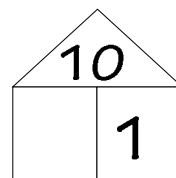
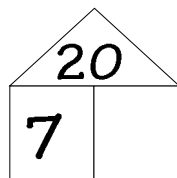
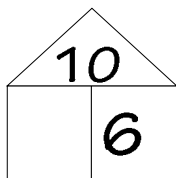
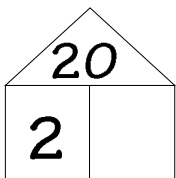
$2+6=$

$12+4=$

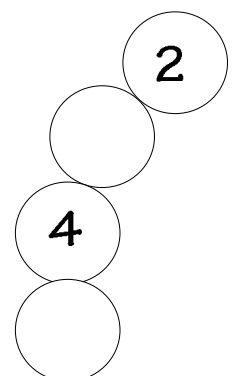
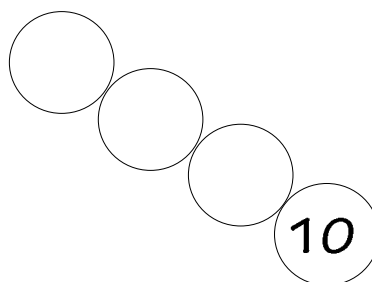

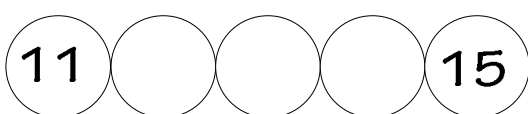
$13-2=$

$15+3=$

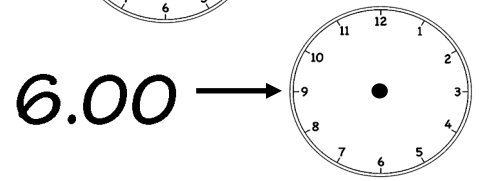
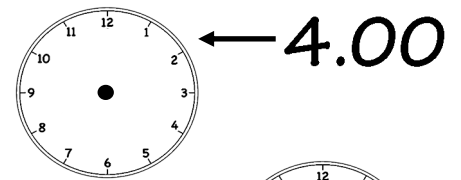
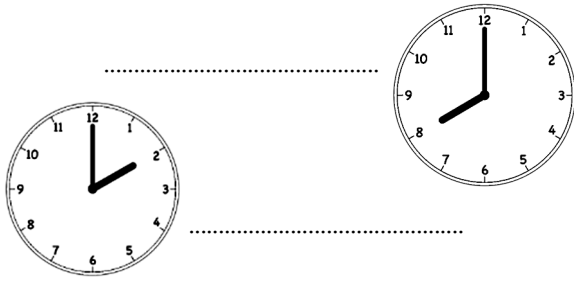
3. Dopełnij do 10 lub 20.



4. Uzupełnij liczby.



5. Zapisz godzinę, którą pokazują zegary. Zaznacz podaną godzinę na zegarze.



6. Połącz skrót z jego nazwą.

l zł m kg cm
centymetr metr litr złoty kilogram

7. Oblicz według wzoru. $7+8=7+3+5=10+5=15$ $14-9=14-4-5=10-5=5$

8	+	8	=																
---	---	---	---	--	--	--	--	--	--	--	--	--	--	--	--	--	--	--	--

6	+	7	=																
---	---	---	---	--	--	--	--	--	--	--	--	--	--	--	--	--	--	--	--

16	-	8	=																
----	---	---	---	--	--	--	--	--	--	--	--	--	--	--	--	--	--	--	--

15	-	6	=																
----	---	---	---	--	--	--	--	--	--	--	--	--	--	--	--	--	--	--	--

8. Przeczytaj zadania. Napisz działanie i odpowiedź.

- Uczniowie klas drugich zdobyli 11 złotych medali, 3 srebrne i 5 brązowych. Ile medali uczniowie klas drugich zdobyli razem?

Odpowiedź: _____

- W ogrodzie rośło 16 tulipanów. Kasia zerwała 4 tulipany dla babci. Ile tulipanów zostało w ogrodzie?

Odpowiedź: _____

INFORMACJA ZWROTNA dla ucznia:.....

EDUKACJA POLONISTYCZNA				
NR	?	RADZISZ SOBIE ŚWIETNIE 3 punkty	POPEŁNIASZ BŁĘDY 1 błąd (2 punkty) więcej niż 1 błąd (1punkt)	NIE POTRAFISZ 0 punktów
1	znasz litery pisane			
2	łączysz litery w wyrazie			
	przepisujesz tekst drukowany			
3	podpisujesz obrazki			
	znasz samogłoski			
4	dzielisz wyraz na głoski			
5	układasz rozsypanki sylabowe			
	wskazujesz wyraz trzysylabowy			
6	dzielisz wyraz na sylaby			
7	czytasz ze zrozumieniem			
	odpowiadasz pisemnie na pytania po przeczytaniu tekstu			

EDUKACJA MATEMATYCZNA				
1	poprawnie zapisujesz cyfry			
2	dodajesz i odejmujesz w zakresie 20 bez przekroczenia progu			
3	dopełniasz liczby do 10 i 20			
4	znasz kolejność liczb w pierwszej 10			
	znasz kolejność liczb w drugiej 10			
5	poprawnie odczytujesz godzinę			
	zaznaczasz na zegarze pełne godziny			
6	znasz matematyczne skróty			
7	dodajesz w zakresie 20 z przekroczeniem progu 10-tkowego			
	odejmujesz w zakresie 20 z przekroczeniem progu 10-tkowego			
8	rozwiązujesz proste zadania z treścią - z jedna niewiadomą			

Poziom: WYSOKI (33p) BARDZO DOBRY (32-27p) DOBRY (26p-21p) DOSTATECZNY (20p-15p)
MINIMALNY (11p-8p), NIEWYSTARCZAJĄCY (7p-0p)